






Doelen Blok 2 WIG5 groep 6

ORIËNTATIE OP GETALLEN																															
<p>blok 2 doel 1</p> <ul style="list-style-type: none"> Je leert getallen tot 10.000 splitsen in duizendtallen, honderdtallen, tientallen en eenheden. Je leert de waarde van de cijfers in getallen tot 10.000. <p>$3624 = 3000 + 600 + 20 + 4$</p> <table border="1" style="margin-left: auto; margin-right: auto;"> <thead> <tr> <th>D</th> <th>H</th> <th>T</th> <th>E</th> </tr> </thead> <tbody> <tr> <td>3</td> <td>6</td> <td>2</td> <td>4</td> </tr> </tbody> </table>	D	H	T	E	3	6	2	4		<p>blok 2 doel 2</p> <ul style="list-style-type: none"> Je leert tellen tot en met 10.000 met sprongen van 1, 10, 100 en 1000. Je leert getallen tot en met 10.000 op volgorde zetten. <p>Tel 1 verder en 1 terug.</p> <table border="1" style="margin-left: auto; margin-right: auto;"> <tbody> <tr><td>6</td><td>9</td><td>9</td><td>8</td></tr> <tr><td>6</td><td>9</td><td>9</td><td>9</td></tr> <tr><td>7</td><td>0</td><td>0</td><td>0</td></tr> <tr><td>7</td><td>0</td><td>0</td><td>1</td></tr> <tr><td>7</td><td>0</td><td>0</td><td>2</td></tr> </tbody> </table> <p>Zet op volgorde van klein naar groot.</p> <p>Kijk naar de duizendtallen, dan naar de honderdtallen, tientallen en eenheden. Zoek steeds de kleinste waarde.</p> <div style="display: flex; justify-content: space-around; align-items: center;"> <div style="border: 1px solid black; padding: 2px;">8756</div> <div style="border: 1px solid black; padding: 2px;">8765</div> </div> <div style="display: flex; justify-content: space-around; align-items: center; margin-top: 5px;"> <div style="border: 1px solid black; padding: 2px;">7865</div> <div style="border: 1px solid black; padding: 2px;">7856</div> </div> <div style="display: flex; justify-content: space-around; align-items: center; margin-top: 5px;"> <div style="border: 1px solid black; padding: 2px;">7856</div> <div style="border: 1px solid black; padding: 2px;">7865</div> <div style="border: 1px solid black; padding: 2px;">8756</div> <div style="border: 1px solid black; padding: 2px;">8765</div> </div>	6	9	9	8	6	9	9	9	7	0	0	0	7	0	0	1	7	0	0	2	
D	H	T	E																												
3	6	2	4																												
6	9	9	8																												
6	9	9	9																												
7	0	0	0																												
7	0	0	1																												
7	0	0	2																												
<p>blok 2 doel 1</p> <ul style="list-style-type: none"> Je leert getallen tot 10.000 samenstellen met duizendtallen, honderdtallen, tientallen en eenheden. Je leert getallen tot 10.000 schrijven in woorden en met cijfers. <p>drieduizend zeshonderd-vier-en-twintig</p> <table border="1" style="margin-left: auto; margin-right: auto;"> <thead> <tr> <th>D</th> <th>H</th> <th>T</th> <th>E</th> </tr> </thead> <tbody> <tr> <td>3</td> <td>6</td> <td>2</td> <td>4</td> </tr> </tbody> </table> <p>$3000 + 600 + 20 + 4 = 3624$</p>	D	H	T	E	3	6	2	4		<p>blok 2 doel 2</p> <ul style="list-style-type: none"> Je leert getallen tot en met 10.000 schattend plaatsen en aflezen op de getallenlijn. 																					
D	H	T	E																												
3	6	2	4																												

OPTELLEN EN AFTREKKEN

blok 2 doel 3

► Je leert getallen afronden op tientallen en honderdtallen.

Rond af op tientallen: Kijk naar het laatste cijfer.		
674	Is dat 4 of lager? Rond af op het vorige tiental.	674 → 670
675	Is dat 5 of hoger? Rond af op het volgende tiental.	675 → 680
Rond af op honderdtallen: Kijk naar de laatste 2 cijfers.		
4325	Zijn die 49 of lager? Rond af op het vorige honderdtal.	4325 → 4300
3275	Zijn die 50 of hoger? Rond af op het volgende honderdtal.	3275 → 3300



blok 2 doel 3

► Je leert getallen afronden op duizendtallen.
► Je leert optellen en aftrekken met de afgeronde getallen.

Rond af op duizendtallen: Kijk naar de laatste 3 cijfers.		
2499	Zijn die 499 of lager? Rond af op het vorige duizendtal.	2499 → 2000
4550	Zijn die 500 of hoger? Rond af op het volgende duizendtal.	4550 → 5000
$3000 + 2000 = 5000$		
$3023 + 1988$ is ongeveer 5000		



blok 2 doel 4

► Je leert sommen als $1200 + 1300$, $4500 - 1200$, 3×700 en $4500 : 9$ vlot uitrekenen door te rekenen met de kleine som.

$65 + 14 = 79$	$6 \times 8 = 48$	$65 - 12 = 53$	$63 : 9 = 7$
$6500 + 1400 = 7900$	$6 \times 800 = 4800$	$6500 - 1200 = 5300$	$6300 : 9 = 700$



MEETKUNDE

blok 2 doel 5

► Je leert hoe je een plaats op een kaart kunt vinden.



