

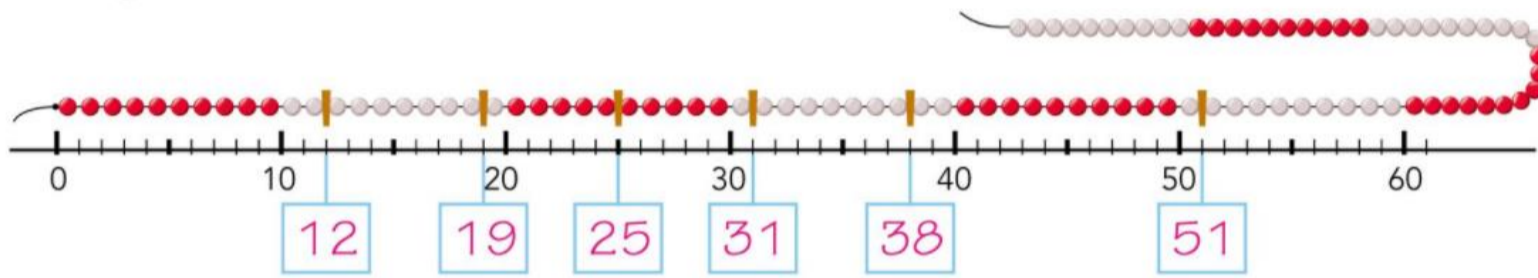


# In blok 8 leer je

- Getallen tot en met 100 aflezen en plaatsen op de streepjesgetallenlijn met en zonder hulpgetallen


doel  
1

**Welk getal?**



**Waar op de getallenlijn?**

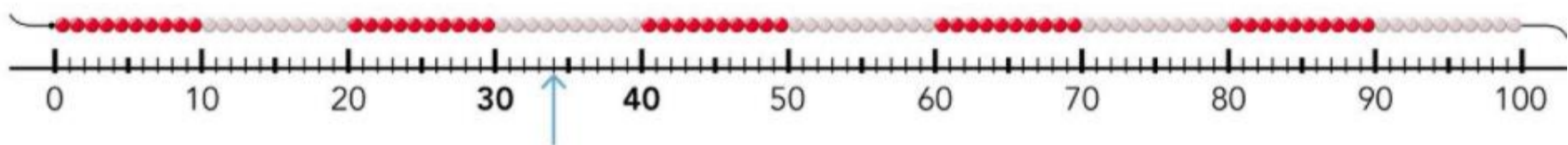
Werk samen. Noem een getal en zet een streep.



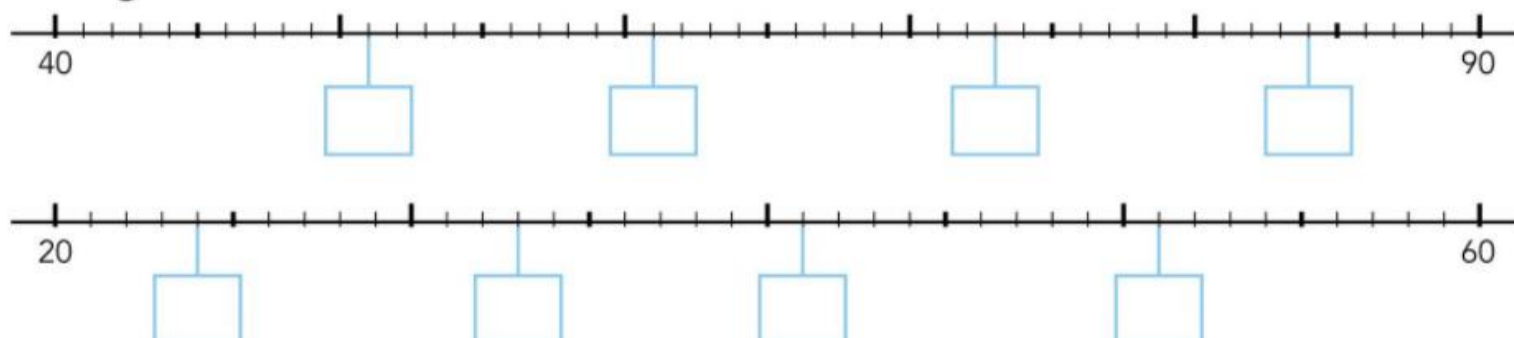
- Leer je tussen welke 2 tientallen een getal ligt.
- Leer je getallen t/m 100 plaatsen en aflezen op de streepjesgetallenlijn.

doel  
2

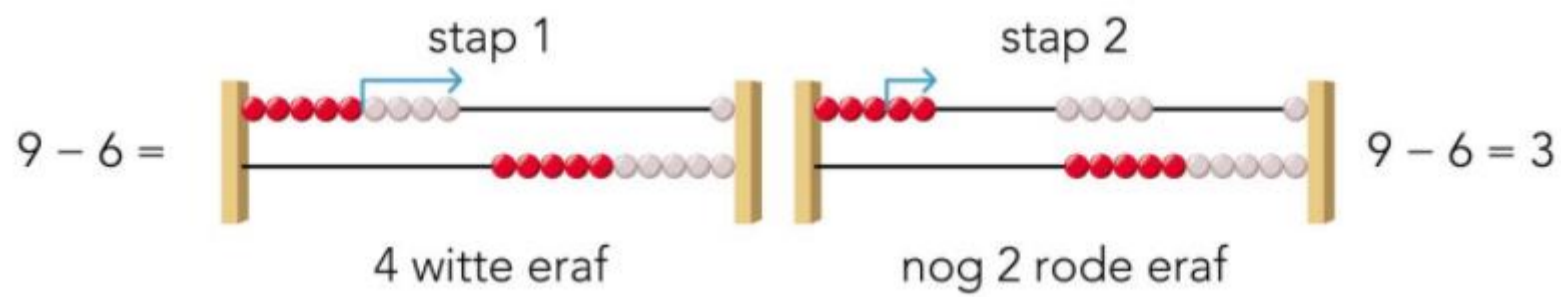
34 ligt tussen 30 en 40.



**Welk getal?**



- leer je sommen t/m 10 vlot te maken:
- je weet het antwoord zonder te tellen en bij moeilijke sommen kijk je naar het rekenrek
- leer je 2 sommen te bedenken bij aanvulverhalen
- leer je waarom er een  $+$  som en een  $-$  som bij het verhaal passen.



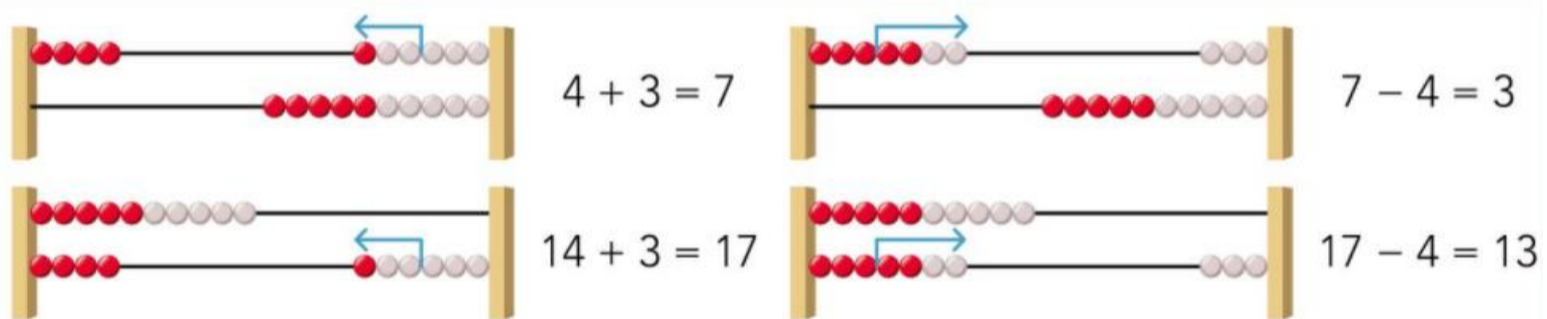
Hoeveel koeken kunnen erbij?

$$6 + 3 = 9$$

$$9 - 6 = 3$$

3 koeken

- leer je sommen t/m 20 uitrekenen, je denkt daarbij aan de sommen t/m 10
- leer je aanvullen t/m 20, je denkt daarbij aan het aanvullen t/m 10



$$8 + \dots = 10$$

$$18 + \dots = 20$$

- leer je bedragen t/m 20 euro herkennen en samenstellen
- leer je bedragen t/m 20 euro samen te stellen met zo min mogelijk munten en biljetten



17 euro

